



Klockan – Övning 10
Beräkna tiden och skriv med siffror



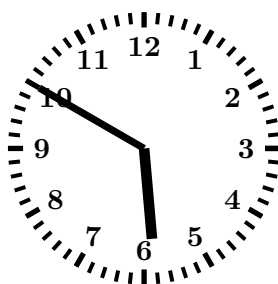
En timme senare,
på kvällen:

__ : __




Två timmar senare,
på dagen:

__ : __



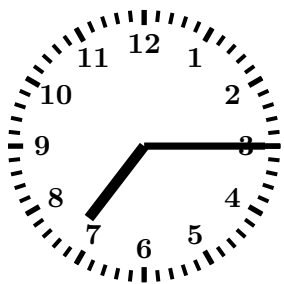
Tre timmar senare,
på morgonen:

__ : __




Fyra timmar senare,
på natten:

__ : __




En timme tidigare,
på kvällen:

__ : __




Två timmar tidigare.
Det var ljusst ute.

__ : __



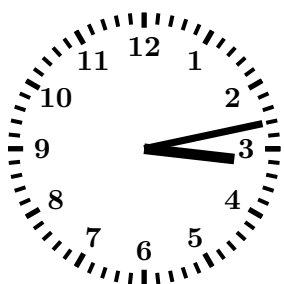
Tre timmar tidigare.
Det var mörkt ute.

__ : __



30 minuter tidigare,
det var dags för lunch:


__ : __



1 timme och
30 minuter senare:

__ : __


__ : __



2 timmar
10 minuter senare:

__ : __

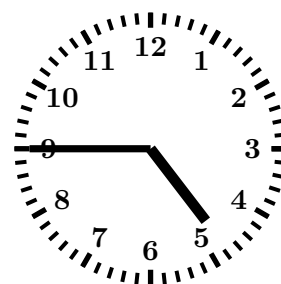
__ : __



4 timmar och
20 minuter tidigare:

__ : __

__ : __



11 timmar och
5 minuter tidigare:

__ : __

__ : __